

Toetswijzer



Doel 1: Afronden en schattend rekenen

blok 9
les 7

1. Schat de uitkomst door af te ronden.

$$348 + 226 \approx \dots\dots\dots = \dots\dots\dots$$

$$3 \times 111 \approx \dots\dots\dots = \dots\dots\dots$$

$$541 - 203 \approx \dots\dots\dots = \dots\dots\dots$$



Doel 2: Optellen en aftrekken tot 1 000

blok 9
les 2
blok 10
les 3

2. Los op met een tussenstap.

$$\begin{aligned} 245 + 371 &= \dots\dots\dots \\ &= \dots\dots\dots \\ &= \dots\dots\dots \end{aligned}$$

$$\begin{aligned} 648 - 472 &= \dots\dots\dots \\ &= \dots\dots\dots \\ &= \dots\dots\dots \end{aligned}$$



Doel 3: Handig rekenen: vermenigvuldigen tot 100

blok 10
les 2

3. Los op. Gebruik indien nodig tussenstappen.

$$3 \times 220 = \dots\dots\dots$$

$$9 \times 80 = \dots\dots\dots$$



Doel 4: Cijferen: optellen en aftrekken tot 1 000

blok 9
les 6
blok 10
les 1

4. Schat en los op.

$$234 + 251 = \dots\dots\dots$$

$$\approx \dots\dots\dots$$

D	H	T	E

$$987 - 518 = \dots\dots\dots$$

$$\approx \dots\dots\dots$$

D	H	T	E



Doel 5: Cijferen: vermenigvuldigen tot 1 000

blok 10
les 7 en
les 9

5. Schat en los op.

$4 \times 122 = \dots\dots\dots$

$5 \times 114 = \dots\dots\dots$

$3 \times 185 = \dots\dots\dots$

\approx $\dots\dots\dots$

\approx $\dots\dots\dots$

\approx $\dots\dots\dots$

D	H	T	E		

D	H	T	E		

D	H	T	E		



Doel 6: Probleemoplossend denken: eerst - dan - nu

blok 10
les 4

6. Moet je eerst, dan of nu zoeken? Verbind.

Fien heeft al heel wat puzzelboeken. Op haar verjaardag krijgt ze er nog 2 bij. Ze heeft nu 12 puzzelboeken. Hoeveel puzzelboeken had ze eerst?

eerst

Sammy heeft 10 euro. Hij koopt een speelgoedje en krijgt 7 euro terug. Hoeveel kostte het speelgoedje van Sammy?

dan

Op de parking staan 11 vrachtwagens. Er komen er 9 bij. Hoeveel vrachtwagens staan er nu?

nu








Doel 7: Een tabel maken

blok 10
les 8

7. Eline, Fabio, Mattie, Frederik en Elvira gaan op daguitstap, elk met aan ander voertuig. Welk voertuig neemt Mattie?

De voertuigen van Eline en Fabio hebben 4 wielen. Bij het voertuig van Elvira hoor je de golven slaan. In het voertuig van Eline is er plaats voor maximaal 5 personen. Frederik koerst graag.

Antwoordzin: Mattie maakt een daguitstap met de

					
Eline					
Fabio					
Mattie					
Frederik					
Elvira					