


Toetswijzer



Doel 1: Rechte, scherpe en stompe hoeken herkennen en tekenen met behulp van een geodriehoek

blok 9
les 11

1. Zet de getallen in de juiste kolom. Gebruik je geodriehoek.



geen hoek	rechte hoek	scherpe hoek	stompe hoek
.....

2. Teken en benoem. 1 been is al gegeven.

rechte hoek \hat{R}

scherpe hoek \hat{S}

stompe hoek \hat{T}

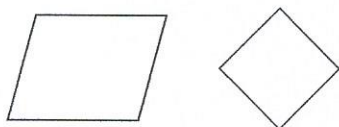


Doel 2: Basisbegrippen bij vlakke figuren aanduiden (overstaande hoeken, overstaande zijden, basis, evenwijdige zijden, loodrechte zijden)

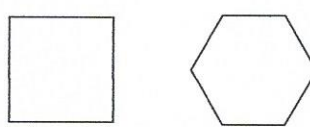
blok 10
les 10

3. Kleur.

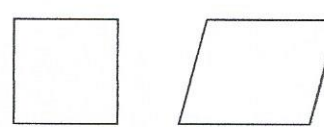
Kleur de overstaande zijden in dezelfde kleur. Gebruik voor elk paar een andere kleur.



Kleur de overstaande hoeken in dezelfde kleur. Gebruik voor elk paar een andere kleur.



Kleur de basis groen.



4. Noteer de nummers van de figuren in de tabel.



1



2



3



4

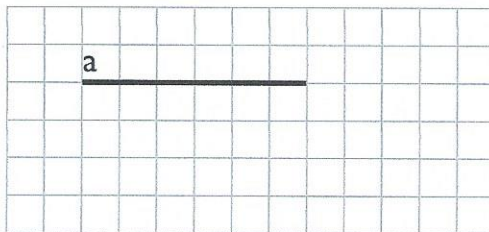
loodrechte zijden	evenwijdige zijden



Doel 3: Evenwijdige rechten en lijnstukken herkennen en tekenen met behulp van een geodriehoek

blok 9
les 5

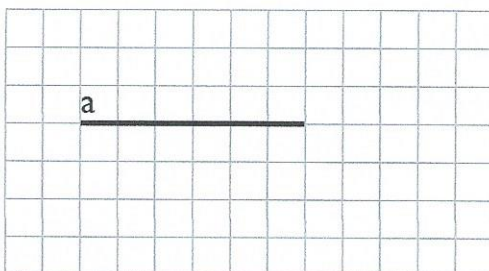
5. Teken met je geodriehoek een rechte evenwijdig aan de rechte a.



Doel 4: Loodrechte rechten en lijnstukken herkennen en tekenen met behulp van een geodriehoek

blok 9
les 10

6. Teken met je geodriehoek een rechte loodrecht op de rechte a.



Meetkunde



Doel 1: Rechte, scherpe en stompe hoeken herkennen en tekenen met behulp van een geodriehoek


blok 9
les 11

1. Zet de getallen in de juiste kolom. Gebruik je geodriehoek.



geen hoek	rechte hoek	scherpe hoek	stompe hoek
3	2	1	4

2. Teken en benoem. 1 been is al gegeven.

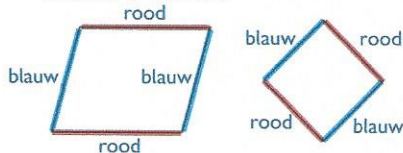


Doel 2: Basisbegrippen bij vlakke figuren aanduiden (overstaande hoeken, overstaande zijden, basis, evenwijdige zijden, loodrechte zijden)

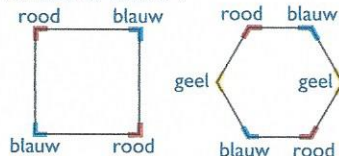
blok 10
les 10

3. Kleur.

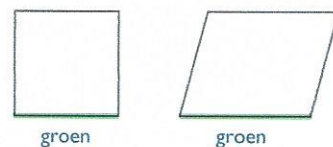
Kleur de overstaande zijden in dezelfde kleur. Gebruik voor elk paar een andere kleur.



Kleur de overstaande hoeken in dezelfde kleur. Gebruik voor elk paar een andere kleur.



Kleur de basis groen.



blok 9
les 5 + 10

4. Noteer de nummers van de figuren in de tabel.




1



2



3



4

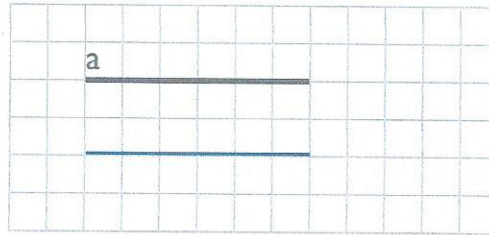
loodrechte zijden	evenwijdige zijden
2, 4	1, 2, 4



Doel 3: Evenwijdige rechten en lijnstukken herkennen en tekenen met behulp van een geodriehoek

blok 9
les 5

5. Teken met je geodriehoek een rechte evenwijdig aan de rechte a.



Doel 4: Loodrechte rechten en lijnstukken herkennen en tekenen met behulp van een geodriehoek

blok 9
les 10

6. Teken met je geodriehoek een rechte loodrecht op de rechte a.

