

Toetsbladen

Naam:

Klas:

Datum:

Nr.:

125

1. Schat de uitkomst door af te ronden naar het dichtstbijzijnde honderdtal.

$$476 + 124 \approx \dots\dots\dots = \dots\dots\dots$$

$$6 \times 105 \approx \dots\dots\dots = \dots\dots\dots$$

$$294 - 110 \approx \dots\dots\dots = \dots\dots\dots$$

$$94 \times 3 \approx \dots\dots\dots = \dots\dots\dots$$

12

2. Los op met een tussenstap.

$$145 + 381 = \dots\dots\dots$$

$$= \dots\dots\dots$$

$$= \dots\dots\dots$$

$$845 - 372 = \dots\dots\dots$$

$$= \dots\dots\dots$$

$$= \dots\dots\dots$$

$$247 + 374 = \dots\dots\dots$$

$$= \dots\dots\dots$$

$$= \dots\dots\dots$$

$$935 - 287 = \dots\dots\dots$$

$$= \dots\dots\dots$$

$$= \dots\dots\dots$$

14

3. Los op. Gebruik indien nodig tussenstappen.

$$4 \times 37 = \dots\dots\dots$$

$$5 \times 199 = \dots\dots\dots$$

$$9 \times 60 = \dots\dots\dots$$

13

4. Schat en los op.

$434 + 251 = \dots\dots\dots$

$\approx \dots\dots\dots$

D	H	T	E

$864 - 513 = \dots\dots\dots$

$\approx \dots\dots\dots$

D	H	T	E

$245 + 137 = \dots\dots\dots$

$\approx \dots\dots\dots$

D	H	T	E

$867 - 248 = \dots\dots\dots$

$\approx \dots\dots\dots$

D	H	T	E

$198 + 257 = \dots\dots\dots$

$\approx \dots\dots\dots$

D	H	T	E

$864 - 576 = \dots\dots\dots$

$\approx \dots\dots\dots$

D	H	T	E

16

5. Schat en los op.

$3 \times 213 = \dots\dots\dots$

$\approx \dots\dots\dots$

D	H	T	E

$4 \times 114 = \dots\dots\dots$

$\approx \dots\dots\dots$

D	H	T	E

$3 \times 182 = \dots\dots\dots$

$\approx \dots\dots\dots$

D	H	T	E

13

6. Moet je eerst, dan of nu zoeken? Verbind.

Oom Victor heeft struiken in zijn tuin. Hij plant er vandaag 6 bij. Er staan nu 14 struiken in zijn tuin. Hoeveel struiken had hij gisteren?

eerst

Virginie gaat met 10 euro naar de winkel. Ze koopt een kleurboek en krijgt 2 euro terug. Hoeveel kostte het kleurboek?

dan

In de fietsenstalling staan 21 fietsen. Er komen er 6 bij. Hoeveel fietsen staan er nu?






nu

13

7. Elk kind is iets aan het doen. Waar is Sunaya mee bezig?

Sunaya en Maarten spelen graag. Maarten loopt rond het speelhuisje. Terwijl Mathias schildert, kleurt Mira. Leonie eet fruit.

Antwoordzin: Sunaya

					
Sunaya					
Leonie					
Maarten					
Mathias					
Mira					

12

8. Kleur in de bovenste rij de oefeningen waar je van plaats mag wisselen groen en kleur in de onderste rij de oefeningen waar je niet mag schakelen rood.

$545 + 11$	$341 - 30$	20×5	$120 : 10$
$(456 + 13) + 7$	$20 \times (4 \times 5)$	$(436 - 20) - 6$	$20 : (60 : 30)$

12

Reflectie



Deze oefeningen vond ik moeilijk