

Ik oefen

1. Los op met tussenstap.

$$\begin{aligned} 523 + 459 &= \underline{523 + 400 + 50 + 9} \\ &= \underline{923 + 50 + 9} \\ &= \underline{973 + 9 = 982} \end{aligned}$$

(Handwritten annotations: a circle around 973, with a bracket from 7 to 2 below it)

$$\begin{aligned} 763 + 186 &= \underline{763 + 100 + 80 + 6} \\ &= \underline{863 + 80 + 6} \\ &= \underline{903 + 40 + 6 = 949} \end{aligned}$$

(Handwritten annotations: a circle around 863, with a bracket from 40 to 40 below it)

$$\begin{aligned} 562 - 382 &= \underline{562 - 300 - 80 - 2} \\ &= \underline{262 - 80 - 2} \\ &= \underline{202 - 20 - 2 = 180} \end{aligned}$$

(Handwritten annotations: a circle around 262, with a bracket from 60 to 20 below it)

$$\begin{aligned} 935 - 609 &= \underline{935 - 600 - 9} \\ &= \underline{335 - 9} \\ &= \underline{303 - 4 = 326} \end{aligned}$$

(Handwritten annotations: a circle around 335, with a bracket from 5 to 4 below it)

2. Bij de TV-zender TEF werken 286 personen. 125 werknemers zijn vrouwen. Hoeveel mannen werken er?

Bewerking: $\underline{286 - 125 = 286 - 100 - 20 - 5}$

$$\begin{aligned} &= \underline{186 - 20 - 5} \\ &= \underline{166 - 5} \\ &= \underline{161} \end{aligned}$$

Antwoordzin: Er werken 161 mannen.

3. De school van Pier telt 375 kinderen. Daarvan zijn er 126 kleuters. Hoeveel kinderen zitten er in de lagere school?

Bewerking: $\underline{375 - 126 = 375 - 100 - 20 - 6}$

$$\begin{aligned} &= \underline{275 - 20 - 6} \\ &= \underline{255 - 6} \end{aligned}$$

(Handwritten annotations: a circle around 255, with a bracket from 5 to 1 below it)

Antwoordzin: Er zitten 249 leerlingen in de lagere school.

Ik werk zelf uit

4. Los op met tussenstap.

$$\begin{aligned}178 + 517 &= \underline{178 + 500 + 10 + 7} \\ &= \underline{678 + 10 + 7} \\ &= \underline{688 + 7 = 695}\end{aligned}$$

$$\begin{aligned}345 + 284 &= \underline{345 + 200 + 80 + 4} \\ &= \underline{545 + 80 + 4} \\ &= \underline{605 + 20 + 4 = 629}\end{aligned}$$

$$\begin{aligned}765 - 306 &= \underline{765 - 300 - 6} \\ &= \underline{465 - 6} \\ &= \underline{460 - 6 = 454}\end{aligned}$$

$$\begin{aligned}912 - 731 &= \underline{912 - 700 - 30 - 1} \\ &= \underline{212 - 30 - 1} \\ &= \underline{202 - 30 - 1 = 171}\end{aligned}$$

5. Vrijdag zitten er 276 mensen in de filmzaal. Zaterdag komen er 127 mensen meer dan op vrijdag. Hoeveel mensen zitten er zaterdag in de zaal?

Bewerking: $\underline{276 + 127 = 276 + 100 + 20 + 7}$
 $\underline{= 376 + 20 + 7}$
 $\underline{= 396 + 7 = 403}$

Antwoordzin: Er zitten zaterdag 403 mensen in de zaal.


6. Voor de nieuwe omheining rondom de weide staan er 775 palen klaar. Er worden 593 palen gebruikt. Hoeveel palen zijn er over?

Bewerking: $\underline{775 - 593 = 775 - 500 - 90 - 3}$
 $\underline{= 275 - 90 - 3}$
 $\underline{= 205 - 3 = 202}$

Antwoordzin: Er zijn 202 palen over.

Ik denk na

7. Los op.

 +	133	471	...330...	...164...	207	470	218
468	...601...	...939...	798	...632...	...675...	...938...	...686...
321	...454...	...150...	...651...	485	...528...	...791...	...539...

8. Los op.

$470 - \dots 141 \dots = 329$

$758 - \dots 333 \dots = 425$

$470 - \dots 119 \dots = 351$

$826 - \dots 53 \dots = 773$

$673 - \dots 581 \dots = 92$

$470 - \dots 280 \dots = 190$





$900 - 234 = \dots 666 \dots$

$808 - 80 = \dots 728 \dots$

$450 - 390 = \dots 60 \dots$

wisSPEL

Noteer hoeveel ballen er zijn van elke soort.

							
12	15	8	5				
