


Ik werk zelf uit

5. Los op.



Wat is het geheel? 12 kippen

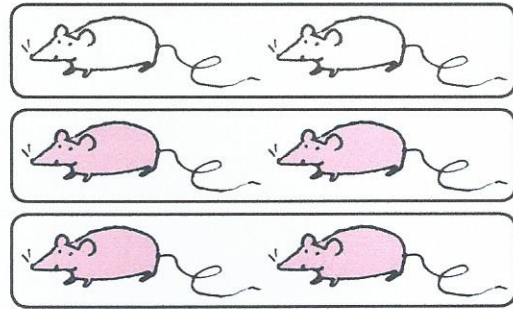
In hoeveel gelijke delen verdeel ik het geheel? 4

Hoe groot is elk deel? 3 kippen

Hoeveel gelijke delen neem ik? 3

Hoe groot zijn die delen samen? 9

$$\frac{3}{4} \text{ van } 12 = 9$$



Wat is het geheel? 6 muizen

In hoeveel gelijke delen verdeel ik het geheel? 3

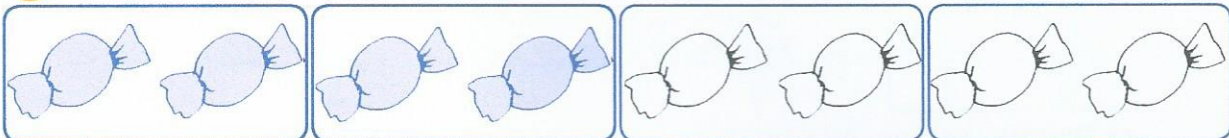
Hoe groot is elk deel? 2 muizen

Hoeveel gelijke delen neem ik? 2

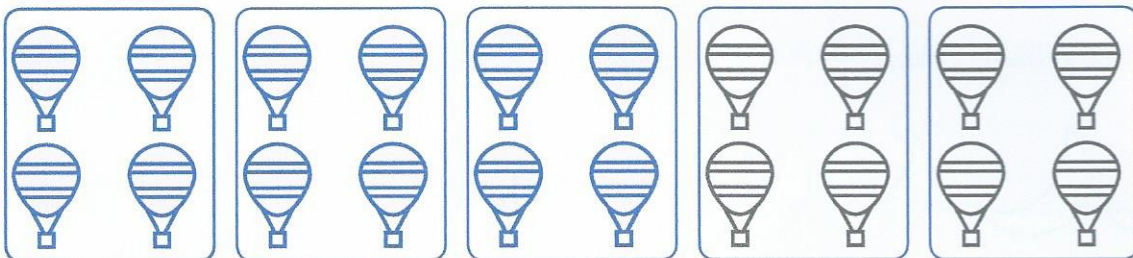
Hoe groot zijn die delen samen? 4

$$\frac{2}{3} \text{ van } 6 = 4$$

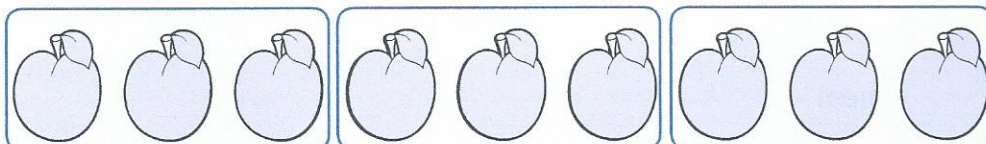
6. Kleur en vul in.



$$\frac{2}{4} \text{ van } 8 \text{ is } 4$$

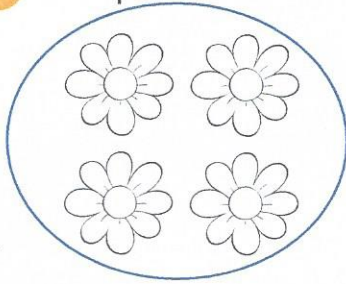


$$\frac{3}{5} \text{ van } 20 \text{ is } 12$$




$$\frac{3}{3} \text{ van } 9 \text{ is } 9$$


7. Los op.



Omcirkel het geheel.



Kleur $\frac{1}{4}$



Kleur $\frac{3}{4}$

Ik denk na


8. Los op.

De spaarvarkens vormen samen een geheel. Omcirkel het geheel met blauw.

Kleur $\frac{1}{10}$ van de spaarvarkens groen.

Kleur $\frac{3}{5}$ van de spaarvarkens geel.

$\frac{3}{10}$ van de spaarvarkens is niet gekleurd.



9. Dit is $\frac{2}{5}$. Teken het geheel.



$\frac{2}{5}$



geheel

wisSPEL

Speel het spel met de klas.